

1. Doplň **samohlásky** a vyfarbi slová, ktoré označujú ovocie:

m \_ čka      p \_ ro      hr \_ ška      pam \_ ť      c \_ buľa      k \_ leno

2. Doplň slová, v ktorých je samohláska ä .

Na ruke mám \_\_\_\_\_ prstov.

Dva a sedem je \_\_\_\_\_ .

Kvet vo váze \_\_\_\_\_ .

Báseň sa máme naučiť \_\_\_\_\_ .

3. Doplň rozlišovacie znamienka:

mamicka, babatko, gulocka, dzem, dychat, korka

4. Pozmeň slová tak, aby v slove bola dvojhláska:

koník - \_\_\_\_\_

koleno - \_\_\_\_\_

čapica - \_\_\_\_\_

5. Napíš po tri slová, ktoré začínajú:

a) samohláskou : \_\_\_\_\_

b) spoluhláskou : \_\_\_\_\_

6. Z rozhádzaných slov utvor vetu .

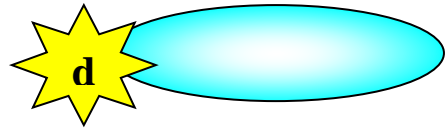
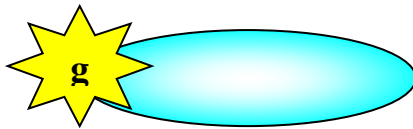
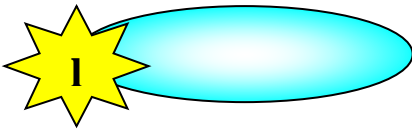
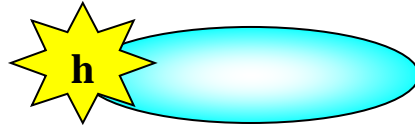
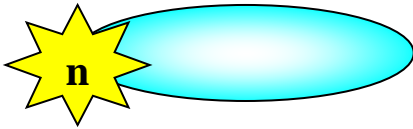
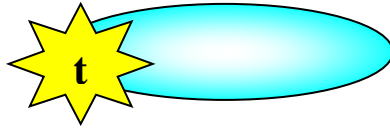
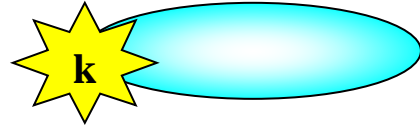
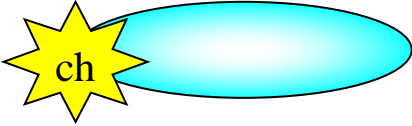
Na žriebätko. sa lúke pasie

\_\_\_\_\_

7. Zakrúžkuj vo vetách tvrdé spoluhlásky.

Pred chatou sa pasie gunár. Na oblohe sa blýska.

Ktoré zvieratká sa začínajú tvrdou spoluhláskou?




Poznáš aj ďalšie?

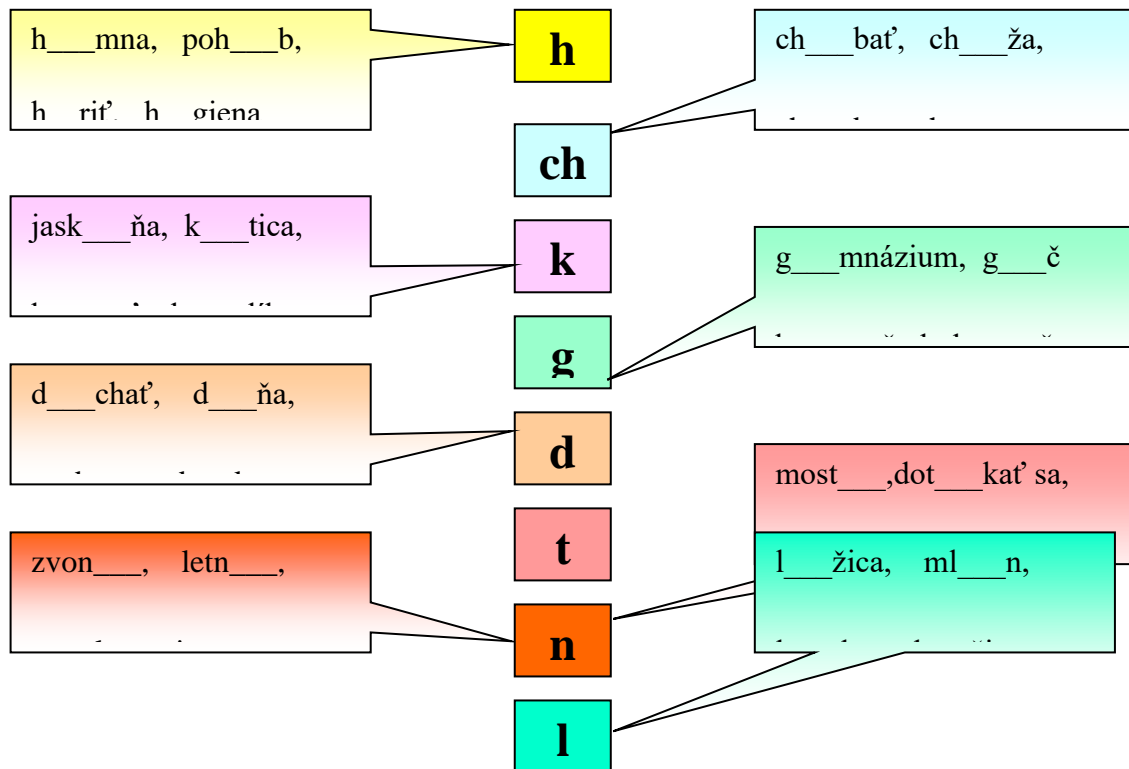
---

---

---

---





Napiš ďalšie slová s použitím tvrdých spoluhlások:

---



---



---



---



---

1. Vypočítaj.

$8 + 4 = \underline{\quad}$        $9 + 6 = \underline{\quad}$        $13 - 7 = \underline{\quad}$        $15 - 9 = \underline{\quad}$

$5 + 6 = \underline{\quad}$        $3 + 9 = \underline{\quad}$        $16 - 8 = \underline{\quad}$        $14 - 6 = \underline{\quad}$

2. Vypočítaj a porovnaj.

$3 + 7 \quad \square \quad 5 + 4$        $9 - 7 \quad \square \quad 10 - 6$        $8 - 4 \quad \square \quad 3 + 6$

$11 + 4 \quad \square \quad 15 - 5$        $20 - 7 \quad \square \quad 3 + 10$        $18 - 6 \quad \square \quad 7 + 12$

3. Vypočítaj .

$9 + 4 + 3 = \underline{\quad}$        $5 + 8 - 10 = \underline{\quad}$        $7 + 6 + 7 = \underline{\quad}$

$11 - 3 - 7 = \underline{\quad}$        $19 - 6 - 4 = \underline{\quad}$        $12 + 8 - 14 = \underline{\quad}$

4. Rieš slovné úlohy.

Dedko nakopal 9 vriec zemiakov. Babka nakopala 5 vriec zemiakov. Koľko vriec zemiakov nakopali spolu?

dedko ...	<input type="text"/>
babka ...	<input type="text"/>
spolu ...	<input type="text"/>

---

---

---

5. Vymysli príklad na sčítanie, ktorého výsledok je 12. \_\_\_\_\_

**6. Vyznač body A a B, ktoré ležia na priamke p.**

**Vyznač body C a D, ktoré neležia na priamke p.**

